

2021-2022 EĞİTİM ÖĞRETİM YILI HABİBE TAŞ İLKOKULU
MATEMATİK DERSİ 4/F SINIFI 2.DÖNEM 1.YAZILI SORULARI

Adı-Soyadı:.....

Tarih:...../04 /2022

Numara:.....

Puan:.....

SORULAR

1.) Aşağıdaki kesirlerin hangi tür kesir olduklarını altına yazalım. (5x2 p= 10 p)

$$\frac{8}{5}$$

$$2 \frac{3}{6}$$


$$\frac{10}{12}$$

$$\frac{14}{14}$$

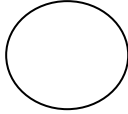
$$\frac{4}{9}$$

.....

2.) a) Aşağıdaki belirtilen kesirlere ilişkin şekilleri çiziniz. (4 p)

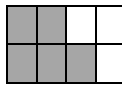


$$\frac{2}{6}$$

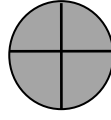


$$\frac{3}{4}$$

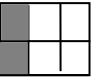
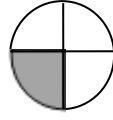
b) Aşağıdaki şekillere ilişkin kesir sayılarını yazınız. (6 p)



.....



.....



.....

3.) a) Aşağıdaki kesirlerin arasına uygun Sembolleri (< , >) koyunuz. (4 p)

$$\frac{2}{4} \dots \frac{3}{4}$$

$$\frac{7}{9} \dots \frac{5}{9}$$

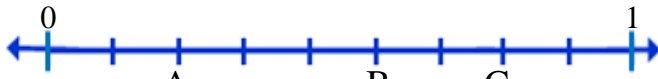
$$\frac{1}{7} \dots \frac{1}{10}$$

$$\frac{1}{11} \dots \frac{1}{8}$$

b) $\frac{4}{8}$, $\frac{7}{8}$, $\frac{3}{8}$, $\frac{5}{8}$ Kesirlerini büyükten küçüğe doğru sembol kullanarak sıralayalım. (3 p)

c) $\frac{1}{12}$, $\frac{1}{9}$, $\frac{1}{11}$, $\frac{1}{15}$ Kesirlerini küçükten büyüğe doğru sembol kullanarak sıralayalım. (3 p)

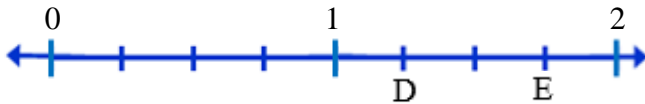
4.) Aşağıdaki sayı doğrularında verilen noktalara denk gelen kesir sayılarını yazalım. (5 x2 p = 10 p)



A=

B=

C=



D=

E=

5.) Aşağıdaki işlemleri yapalım. (5x2 p = 10 p)

a) $\frac{4}{15} + \frac{6}{15} =$

c) $\frac{9}{12} - \frac{5}{12} =$

ç) $\frac{14}{10} - \frac{9}{10} =$

d) $2 \frac{3}{9} + \frac{2}{9} =$

e) $7 \frac{10}{13} - 3 \frac{8}{13} =$

- 6.) Taner 184 sayfa olan hikaye kitabının $\frac{1}{4}$ 'ini okumuş. Taner kaç sayfa okumuştur? (5 p)
Çözüm:

- 7.) Bir araba 420 kilometrelik yolun $\frac{3}{7}$ 'ünü gidince mola vermiş. Arabanın kaç kilometre yolu kalmıştır? (10 p)
Çözüm:

- 8.) Poşetteki fındıkların önce $\frac{3}{12}$ 'ünü , sonra $\frac{5}{12}$ ini yedik. Geriye fındıkların ne kadarı kalmıştır? (5 p)
Çözüm:

- 9.) Eren'in kursu saat 10.20'de başlamış. Kurs saat 12.45'te bitmiş. Kurs ne kadar sürmüştür? (5 p)
Çözüm:

- 10.) Noktalı yerleri tamamlayınız. (5 p)

3 saat = dakika 5 dakika = saniye 2 saat 25 dakika = dakika
240 saniye = dakika 360 dakika = saat

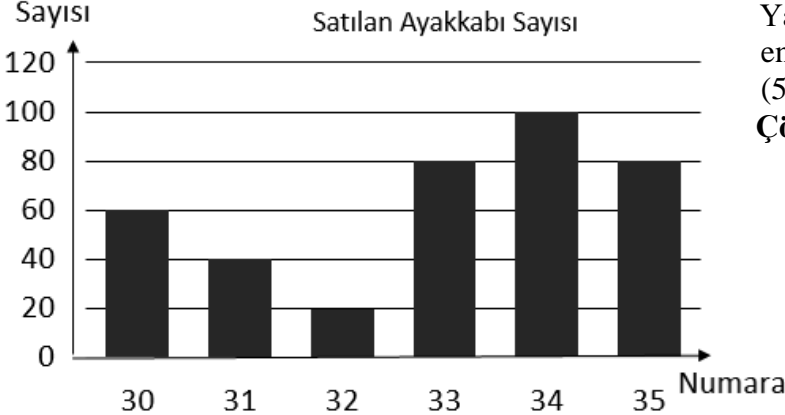
- 11.) Noktalı yerleri tamamlayınız. (5 p)

4 hafta = gündür. 2 gün = saattir. 3 yıl = aydır.
..... ayı 4 yılda bir 29 gündür. 1 yıl = haftadır.

- 12.) Saat 20.30'da başlayan film saat 22.15'te bitmiş. Film kaç **dakika** sürmüştür? (5 p)
Çözüm:

- 13.) Bugün günlerden **salı** ise 10 gün sonra hangi gündür ? (5 p)
Çözüm:

- 14.) Sayısı



- Yandaki grafiğe göre en fazla satılan ayakkabı en az satılan ayakkabıdan kaç tane fazladır? (5 p)
Çözüm: